

63. Bir ülkenin coğrafi konumu, büyüklüğü, şekli, arazi yapısı, iklimi ve doğal kaynaklarının milletler arası politikada oynadığı rol aşağıdaki bilim dallarından hangisinin oluşmasına neden olmuştur?

- A) Tarih  
B) Jeopolitik  
C) Coğrafya  
D) Sosyoloji  
E) Arkeoloji

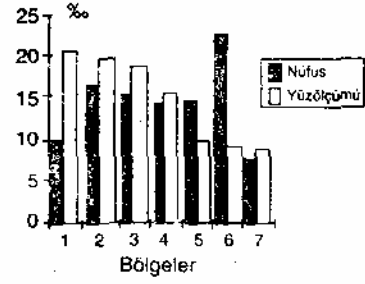
64.



Yerin eksenini etrafında dönüşü sırasında, yandaki şekil üzerinde belirtilen yerlerin hangisinde hız en fazladır?

- A) 1 B) 2 C) 3 D) 4 E) 5

71.



Yukarıdaki grafikte Türkiye nüfus ve yüzölçümünün yedi coğrafi bölgeye dağılımı yüzde olarak gösterilmiştir. Buna göre, grafikte 1 numara ile gösterilen bölge aşağıdakilerden hangisi olabilir?

- A) Güneydoğu Anadolu  
B) Marmara  
C) Doğu Anadolu  
D) Karadeniz  
E) Akdeniz

72.

Bir bölgenin nüfuslanmasında iklim ve yerçekillerinin elverişliliği, ulaşım olanaklarının yeterliliği, tarım alanlarının verimliliği, endüstrinin gelişmişliği, gibi etmenler rol oynamaktadır. Buna göre, aşağıdaki bölümlerin hangisinin nüfuslanmasında bu etmenlerin tümü etkili olmuştur?

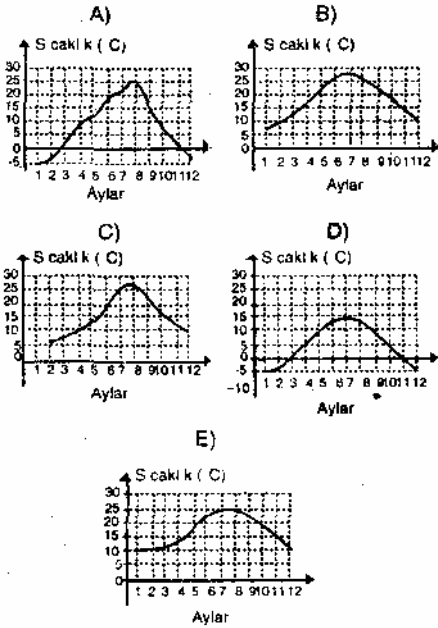
- A) Çatalca ve Kocaeli  
B) İç Batı Anadolu  
C) Yukarı Murat- Van  
D) Yukarı Kızılırmak  
E) Doğu Karadeniz

65. Atmosferin olmaması durumunda, yeryüzünde aşağıdakilerden hangisinin gerçekleşmesi beklenir?

- A) Yıl boyunca yağış olması
- B) Mor ötesi ışınların tutulması
- C) Sıcaklığın yıl boyunca aynı kalması
- D) Gölgelerin tam karanlık olması
- E) Yerüstü ve yer altı sularının artması

66. Karasal iklimin özelliklerinden biri, yaz mevsimi ile kış mevsimi arasındaki sıcaklık farkının fazla olmasıdır.

Buna göre, aşağıdaki aylık ortalama sıcaklık grafiklerinden hangisi karasal iklime ait olabilir?



73. Türkiye'de doğal koşullar göz önüne alındığında, aşağıdaki bölgelerin hangisinde hidroelektrik potansiyelin en fazla olduğu söylenebilir?

- A) Marmara
- B) Güneydoğu Anadolu
- C) İç Anadolu
- D) Ege
- E) Doğu Anadolu

74. Kentlerde tarım, sanayi, ticaret, ulaşım, kamu hizmetleri, kültür, turizm, madencilik gibi birçok etkinlik bir arada bulunur. Bir kentte etkinliklerin biri ya da birkaçı ön plana çıkabilir. Kentlerin, etkinliklerine göre sınıflandırılmasında bu durum göz önüne alınır.

Buna göre, aşağıdaki kentlerden hangisi hem sanayi kenti hem de tarım kenti olarak nitelenebilir?

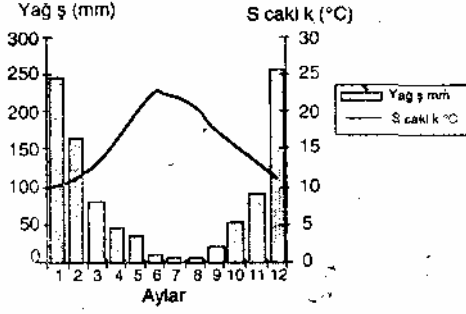
- A) İstanbul B) Antalya C) Bursa
- D) Amasya E) Muğla

75. Genelde, tarım ürünlerini işleyen fabrikalar üretim alanına yakın yerlere kurulur.

Türkiye'de aşağıdaki sanayi kollarından hangisindeki fabrikaların kurulduğu yerler bu genellemeye en az uymaktadır?

- A) Pamuklu dokuma
- B) Zeytinyağı
- C) Safça
- D) Fındık işleme
- E) Çay işleme

67. Aşağıda bir yerin yağış ve sıcaklık grafiği verilmiştir.




Grafikteki bilgiler göz önüne alındığında, bu yerle ilgili olarak aşağıdaki yargılardan hangisine ulaşamaz?

- A) Kuzey Yarımkürede yer almaktadır  
 B) Yıllık yağış miktarı 750 mm'nin üzerindedir  
 C) Kar örtüsü ocak ayı boyunca yerde kalır  
 D) En yağışlı mevsim kıştır  
 E) En sıcak ay temmuzdur
68. Bitki coğrafyası konusunda araştırma yapan bir bilim adamı, araştırma için gittiği yörede kekik, lavanta, zeytin, zakkum ve defne gibi bitkilerin yaygın olduğu gözlemiştir. Bu yöredeki bitki örtüsü aşağıdakilerden hangisine uygundur?

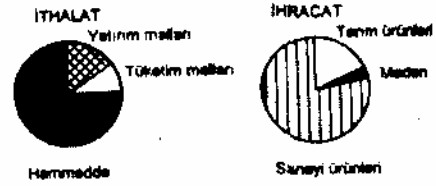
- A) Çayır  
 B) Bozkır  
 C) Tundura  
 D) Savan  
 E) Maki

76. Aşağıdaki haritada, bölgedeki karayolları, bu yollardaki trafiğin yoğunluğuyla orantılı olarak değişen kalınlıktaki çizgilerle gösterilmiştir.



Yalnızca bu haritadaki bilgilere dayanarak, X ile gösterilen merkez hakkında aşağıdakilerden hangisi ile ilgili fikir edinilebilir?

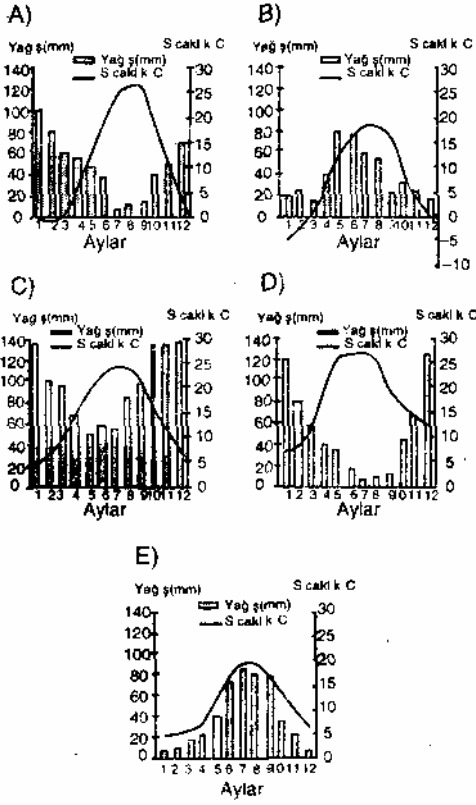
- A) İklimi  
 B) Yerçekilleri  
 C) Konut tipi  
 D) Tarımsal nüfus yoğunluğu  
 E) Bölge ticaretindeki yeri
77. Aşağıdaki grafiklerde bir ülkenin ithalat ve ihracatında yer alan malların oranları görülmektedir.



Grafikteki bilgiler göz önüne alındığında, bu ülkeyle ilgili olarak aşağıdaki yargılardan hangisine ulaşılabilir?

- A) İşsizlik oranı fazladır  
 B) Nüfus dağılımı dengelidir  
 C) Tarımsal üretimi yetersizdir  
 D) Gelişmiş bir ülkedir  
 E) İthalat giderleri ihracat gelirlerinden fazladır

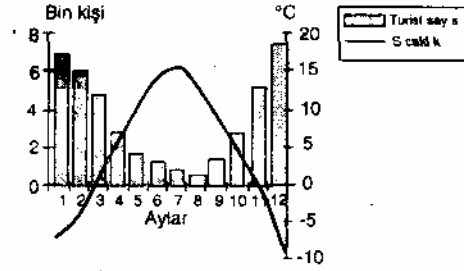
69. Yazları sıcak ve kurak, kışları ise ılık ve yağışlı geçen yerlerde yetişen, soğuğa dayanıksız bir kültür bitkisi aşağıdaki grafiklerin hangisinde gösterilen iklim tipinde yetiştirilebilir?



70. Bir coğrafi bölümün çeşitli yöreleri arasında iklim ve bitki örtüsü bakımından farklılık görülebilir. Aşağıdaki bölümlerin hangisinde bu farklılık diğerlerine oranla daha belirgindir?

- A) Güney Marmara
- B) Doğu Karadeniz
- C) Yukarı Kızılırmak
- D) Kıyı Ege
- E) Orta Karadeniz

78. Aşağıdaki grafikte Kuzey Yarımkürede yer alan bir bölgeye gelen turist sayısı ve bu bölgenin aylık sıcaklık ortalamaları verilmiştir.



Grafikteki bilgilere dayanarak, bu bölge ile ilgili aşağıdaki yargılardan hangisine varılamaz?

- A) Turizm, kış mevsiminde daha canlıdır
- B) Gelen turistlerin çoğu yabancıdır
- C) Hiçbir ayın ortalama sıcaklığı 20 °C den fazla değildir
- D) Kış aylarının ortalama sıcaklıkları 0°C nin altındadır
- E) Yıl boyunca 30 000'in üzerinde turist gelmektedir