
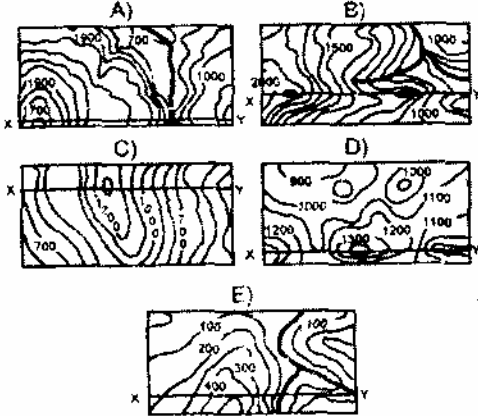


55.



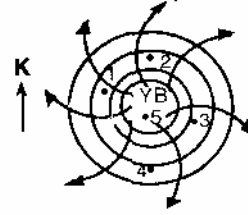
Yukarıdaki profil, aşağıdaki haritaların hangisinde X-Y doğrultusuna aittir?



56. Ankara, 33° Doğu meridyeni ve 40° Kuzey paralelinde yer almaktadır. Aşağıdakilerin hangisi üzerinde bulunan bir yerde, verilen tarihte gündüzler Ankara'dakinden daha uzundur?

- A) 60° Doğu meridyeni, 23 Eylül
- B) 50° Kuzey paraleli, 21 Haziran
- C) 30° Kuzey paraleli, 21 Haziran
- D) 10° Doğu meridyeni, 21 Mart
- E) 60° Kuzey paraleli, 21 Mart

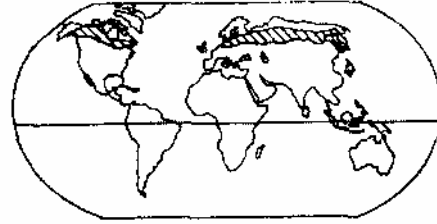
61.



Yer şekillerinin etkisiz olduğu kabul edilirse, Kuzey Yarımkürede şekildeki basınç sisteminden doğan rüzgarların, numaralanmış yerlerin hangisinde hava sıcaklığını en çok düşürmesi beklenir?

- A) 1 B) 2 C) 3 D) 4 E) 5

62.



Yukarıdaki haritada bir doğal bitki örtüsünün coğrafi dağılışı gösterilmiştir. Bu dağılışa dayanarak, bu bitki ile ilgili aşağıdaki yargılardan hangisine varılabilir?

- A) Ilıman iklimlerde yetişir
- B) Her mevsim bol yağışa gereksinimi vardır
- C) Kış soğuklarından etkilenmez
- D) Soğuk rüzgarlardan olumsuz yönde etkilenir
- E) Her mevsim bol ışığa gereksinimi vardır

59.



Yukarıdaki haritada numaralanmış yerlerin hangisinde bağıl nemin en az olması beklenir?

- A) 1 B) 2 C) 3 D) 4 E) 5


Bu grafiklerden hangisi işsizlik sorununun en az olduğu durumu göstermektedir?

- A) I B) II C) III D) IV E) V

65. Türkiye'de aşağıdaki ürünlerden hangisinin tarımının yoğun olduğu yörede, küçükbaş hayvancılık en azdır?

- A) Ayçiçeği
B) Buğday
C) Susam
D) Şekerpancarı
E) Çay

66. Aşağıdaki grafiklerde bir ülkede yetiştirilen beş tarla ürününün ekim alanı ve üretim oranları gösterilmiştir.



Bu ürünlerde, birim alandan alınan verim yumru bitkilerde en fazladır.

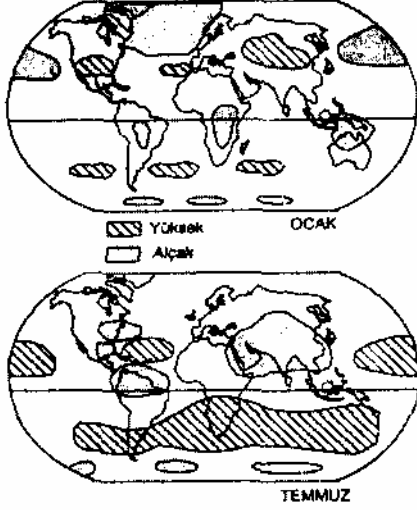
Buna göre, kaç numaralı alan yumru bitkilere aittir?

- A) I B) II C) III D) IV E) V

67. Türkiye'de seracılığın Akdeniz ve Ege bölgelerinde daha yaygın olmasının en önemli nedeni aşağıdakilerden hangisidir?

- A) Güneşli gün sayısının fazla olması
B) Kış mevsiminin yağışlı geçmesi
C) Toprağın verimli olması
D) Tarımsal nüfusun fazla olması
E) Sulama olanaklarının gelişmiş olması

60.



Yukarıdaki eşbasınç haritalarında görüldüğü gibi, ocak ve temmuz dönemlerinde basınç merkezleri yer değiştirmektedir.

Bu değişikliklerin Kuzey Yarımkürede Güney Yarımküreye göre daha belirgin olmasında başlıca etken aşağıdakilerden hangisidir?

- A) Kara ve denizlerin dağılışı
- B) Yerin şekli
- C) Okyanus akıntıları
- D) Sürekli rüzgarlar
- E) Yerin eksenini çevresindeki hareketi

68. Türkiye'de elektrik enerjisinin bir kısmı Soma, Yatağan, Afşin - Elbistan gibi termik santrallerden elde edilmektedir.

Bu santrallerin kuruluş yerlerinin belirlenmesinde öncelikle aşağıdakilerden hangisi göz önünde tutulmuştur?

- A) Yoğun nüfuslu merkezlere yakınlık
- B) Enerji tüketim merkezlerine yakınlık
- C) Ulaşım kolaylığı
- D) Linyit yataklarına yakınlık
- E) Enerji nakil hatlarına yakınlık

69. İklim bakımından deniz turizmine elverişli mevsimi kısa olan Karadeniz Bölgesinde son yıllarda iç ve dış turizmde artış görülmektedir.

Karadeniz Bölgesi turizminin canlanmasında aşağıdakilerden hangisinin önemli bir katkısı yoktur?

- A) Turizm etkinliklerinin çeşitlenmesi
- B) Turistik değerlerin tanıtımına önem verilmesi
- C) Ucuz tatil olanaklarının bulunması
- D) Sarp sınır kapısının açılması
- E) Nüfusun kıyı kesiminde yoğunlaşması