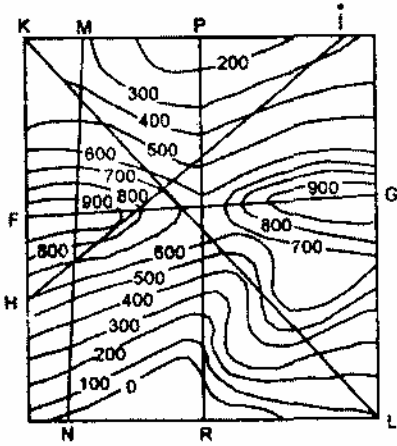


54.



Eşyükselti eğrileriyle gösterilmiş yukarıdaki haritada, verilen doğruların hangisinde çizilen profile yükselti farkı en azdır?

- A) F-G      B) H-i      C) K-L  
D) M-N      E) P-R

59. Alüvyon, buzlaş ve lős gibi topraklar taşınmış topraklardır.

**Taşınmış toprakların ortak özelliği aşağıdakilerden hangisidir?**

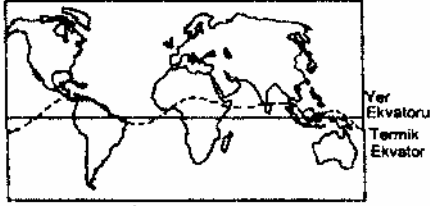
- A) Soluk renkli (fazla yıkanmış) olmaları  
B) Verimli olmaları  
C) Geçirimsiz olmaları  
D) Karbonatlı olmaları  
E) İnce taneli olmaları

60. Kömür, çok miktarda bitkisel maddenin, havasız bir ortamda ve basınç altında değişmesi sonucunda oluşan bir kayadır.

**Buna göre kömür, aşağıdaki kayalar türlerinden hangisine bir örnektir?**

- A) İç püskürük  
B) Dış püskürük  
C) Kimyasal tortul  
D) Organik tortul  
E) Kırıntı (mekanik) tortul

55. Aşağıdaki haritada, meridyenlerin en sıcak noktalarını birleştiren Termik ekvator ile Yer ekvatoru görülmektedir.

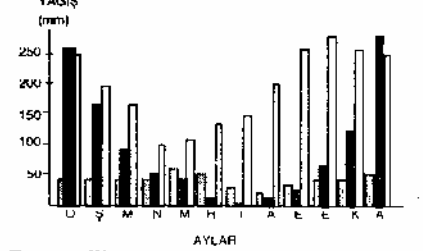


Termik Ekvatorun, Yer Ekvatorundan sapmalar göstermesi,

- I. Okyanus akıntıları
- II. Sürekli rüzgarlar
- III. Bitki örtüsü
- IV. Karasallık etmenlerinden hangileri ile açıklanabilir?

- A) I ve II    B) I ve III    C) I ve IV  
D) II ve III    E) III ve IV

56. Aşağıdaki grafikte, Akdeniz, İç Anadolu ve Karadeniz bölgelerindeki aylık ortalama yağış miktarları gösterilmiştir.



Bu grafikte, □, ■ ve ■ sırasıyla hangi bölgelerdeki yağış miktarını göstermektedir.

- ■    ■
- A) İç Anadolu    Akdeniz    Karadeniz
  - B) Akdeniz    İç Anadolu    Karadeniz
  - C) Karadeniz    Akdeniz    İç Anadolu
  - D) İç Anadolu    Karadeniz    Akdeniz
  - E) Karadeniz    İç Anadolu    Akdeniz

61. 1975 yılı sayımına göre, Türkiye' de üç bölgenin toplam nüfusları ile nüfus yoğunlukları yaklaşık olarak şöyledir:

	Toplam Nüfus	Nüfus yoğunluğu
I. Bölge	7 509 000	116
II. Bölge	7 777 000	48
III. Bölge	7 052 000	52

Buna göre, yüzölçümü açısından bu bölgelerin büyükten küçüğe doğru sırası aşağıdakilerden hangisidir?

- A) I, II, III    B) II, I, III    C) III, I, II  
D) III, II, I    E) II, III, I

62. Çukurova'da nüfus yaz mevsiminde artmaktadır.

Bu artışta, aşağıdakilerden hangisinin etkisi en fazladır?

- A) Tarım işçilerine olan gereksinimin artması
- B) Turizmin hareketlenmesi
- C) İnşaat etkinliklerinin hızlanması
- D) Fuar ve panayır mevsiminin başlaması
- E) Endüstriyel etkinliklerin artması

63. Köy ve kasabalardaki konutlarda yapı malzemesi olarak, İç Anadolu Bölgesinin iç kesimlerinde daha çok taş ve toprağın, kuzeyindeki dağlık kesimlerde ise ağacın kullanıldığı görülmektedir.

Bu durum aşağıdakilerden hangisine örnek gösterilebilir?

- A) Konut büyüklüğünün, yöreden yöreye değiştiğine
- B) Konut tipinin, yerleşme birimi büyüklüğüne bağlı olduğuna
- C) Doğal çevrenin, insan yaşayışı üzerinde etkili olduğuna
- D) Temel gereksinimlerin her yerde birbirine benzediğine
- E) Teknolojinin gelişmesiyle doğal çevreye olan bağımlılığın azaldığına

57. Kentler Yıllık Ortalama Sıcaklık (°C)

Kentler	Yıllık Ortalama Sıcaklık (°C)
İğdır	11,5
Erzurum	6,0
Ankara	11,6

Yukarıdaki tabloda üç kentin yıllık ortalama sıcaklıkları verilmiştir.

Aynı enlem üzerinde yer almalarına karşın Erzurum'un yıllık ortalama sıcaklığının İğdır ve Ankara'dan daha düşük olmasının başlıca nedeni aşağıdakilerden hangisidir?

- A) Denize olan uzaklığının daha fazla olması
- B) Yükseltisinin daha fazla olması
- C) Daha fazla miktarda yağış alması
- D) Kuzey rüzgarlarına açık olması
- E) Bir ovada yer alması

64. Türkiye'de, iki farklı ürünün yetiştirildiği alanlar I ve II numaralı haritalarda gösterilmiştir.




Buna göre, yetiştirme koşulları bakımından I. haritadaki ürünü II. haritadaki üründen ayıran **en önemli** özellik aşağıdakilerden hangisidir?

- A) Humus bakımından zengin topraklarda yetişebilmesi
- B) Geniş düzlüklerde yetişebilmesi
- C) Olgunlaşma döneminde yüksek sıcaklığa gereksinim duyması
- D) Suya olan gereksiniminin fazla olması
- E) Şiddetli rüzgarlara kapalı yerlerde yetişebilmesi

65. Ege Bölgesinin kıyı iklimine uyum sağlamış olan bir bitki, aşağıdaki yörelerin hangisinde doğal olarak yetişebilir?

- A) İspanya- Portekiz kıyıları
- B) Belçika- Hollanda kıyıları
- C) Danimarka- Norveç kıyıları
- D) İrlanda-İskoçya kıyıları
- E) Finlandiya- İsveç kıyıları

58. Akarsu biriktirmeleriyle oluşan yerçekillerinin yapısı, öteki etkenler yanında akarsuyun akımıyla da doğrudan ilgilidir.



Buna göre, yanda kesiti verilen yer yapısını oluşturan akarsuyun akım eğrisi aşağıdakilerden hangisidir?

(Öteki etkenler sabit kabul edilecek; tortulanma süresi düşünülmecektir.)

