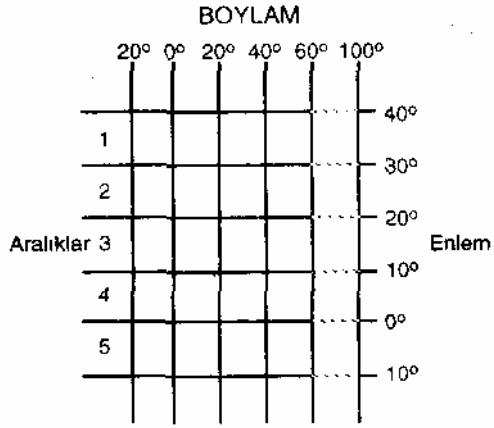


54.



Yukarıdaki şekle göre, başlangıç meridyeni ile yengeç dönencesinin kesiştiği nokta kaçınca aralıkta yer alır?

- A) 1. B) 2. C) 3. D) 4. E) 5.

62. Genelde Karadeniz bölgesinin kıyı kesimleri ile iç kesimleri arasında iklim özellikleri büyük farklılıklar gösterir. Ancak Orta Karadeniz bölümünde bu farklılık azdır.

Bu duruma neden olan temel etken aşağıdakilerden hangisidir?

- A) Kıyı akıntıları
B) Yer şekli
C) Denizden uzaklık
D) Kıyı şekli
E) Bitki örtüsü

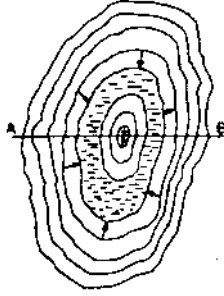
63. Aşağıdakilerden hangisi, Ege Bölgesinin İç Batı Anadolu ve Ege Bölgelerini birbirinden ayıran özelliklerden biri değildir?


- A) Yağış rejimi
B) Yükselti
C) Sıcaklık
D) Nüfus yoğunluğu
E) Yeraltı zenginliği

64. İç Anadolu Bölgesinde Nisan ayının yağışlı, Temmuz ayının kurak geçmesi buğday verimini artırmaktadır. Buna göre, bu bölgede buğday verimi aşağıdakilerden hangisiyle ilgilidir?

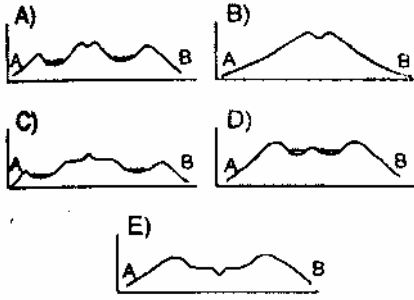
- A) Yıl içinde yağışlı geçen gün sayısı
B) Yıllık yağışın miktarı
C) Yağışın yıl içinde dağılışı
D) Yıl içinde düşen yağışın biçimi
E) Toprağın yağışı sızdırma derecesi

55.



Haritada  işareti, çevresine göre çukur olan kapalı alanları gösterir.

Buna göre, yukarıda eş yükselti eğrileriyle çizilmiş haritası verilen volkan konisinin, AB doğrultusunda çıkarılmış profili aşağıdakilerden hangisidir?



56. Aşağıdakilerden hangisi, bir bölgede etkili olan sıcaklık ve yağış rejimi hakkında en çok bilgi verir?

- A) Doğal bitki örtüsü
- B) Akarsu ağı
- C) Denize yakınlık
- D) Yükselti
- E) Hakim rüzgar yönü

65. Türkiye'nin her bölgesinde sebze bitkileri yetiştirilir. Ancak, bir sebzenin olgunlaşması bölgeden bölgeye farklı aylara rastlar.

Buna göre, doğal yetişme koşulları göz önüne alındığında fasulyenin hangi bölgede en geç olgunlaşması beklenir?

- A) Ege
- B) Akdeniz
- C) İç Anadolu
- D) Güneydoğu Anadolu
- E) Doğu Anadolu

66. Bir tarım ürününün yoğun olarak ürettiği yörelere o ürünün tarım bölgesi denir. Her bölgede tarımı yapılabilen bitkiler için tarım bölgesi belirlemek güçtür.

Buna göre, Türkiye'de aşağıdaki bitkilerden hangisi için belirli bir tarım bölgesinden söz edilemez?

- A) Şeker pancarı
- B) Fındık
- C) Zeytin
- D) İncir
- E) Çay

67. Aşağıdaki tarım ürünlerinin hangisinde, Gaziantep ve Şanlıurfa yörelerinin Türkiye'nin yıllık toplam üretimindeki payı en büyüktür?


- A) Karpuz
- B) Mercimek
- C) Ayçiçeği
- D) Pamuk
- E) Tütün

57. "Kış erken gelir, çok soğuk olur. Kar ortalama 80 gün toprak üstünde kalır. Yaz da erken gelir, çok sıcak olur; karlar hızla erir.

Yukarıda hangi iklim tipinden söz edilmektedir?

- A) Tropikal
- B) Akdeniz
- C) Orta Kuşak Karasal
- D) Okyanus
- E) Muson

58.



Yukarıdaki haritada, Akdeniz ikliminin etkili olduğu bölgeler noktalarla gösterilmiştir.

Akdeniz'e komşu oldukları halde, bazı bölgelerin Akdeniz iklimi dışında kalmasının temel nedeni bu bölgelerin hangi özelliğidir?

- A) Mutlak nemin az olması
- B) Akarsu ağının seyrek olması
- C) Dönencelere yakın olması
- D) Bitki örtüsünün cılız olması
- E) Yerçeklinin engebesiz olması

59. **Aşağıdakilerden hangisi üzerinde yerçekillerinin etkisi en azdır?**

- A) Tarla tarımı
- B) Hayvancılık
- C) Yerleşme tipi
- D) Madencilik
- E) Ulaşım

68. Endüstrinin de gelişmiş olduğu Ege Bölgesinde tarım en önemli gelir kaynağı olma özelliğini korumaktadır.

Aşağıdakilerden hangisi bu duruma bir neden olarak gösterilebilir?

- A) Sanayi kuruluşlarının düzensiz olması
- B) Akarsuların kışın bol su taşıması
- C) Nüfusun yoğun olması
- D) Tarım alanlarının geniş ve verimli olması
- E) El sanatlarının yaygınlaşmamış olması

60. Türkiye'deki bazı göllerin deniz düzeyinden yükseklikleri şöyledir:

Van Gölü	: 1646 m
Hazar Gölü	: 1248 m
Tuz Gölü	: 925 m
Marmara Gölü	: 71 m

Bu bilgiler Türkiye'nin doğal özellikleri ile ilgili aşağıdaki genellemelerden hangisini desteklemektedir?

- A) Dağlar öteki yerşekillerine oranla çok yer kaplar
- B) Sıradağlar arasında irili ufaklı göller yer alır
- C) Sıradağlar Ege kıyılarına dik olarak ulaşır
- D) Yükselti Batıdan Doğuya doğru giderek artar
- E) Kuzey ve Güneyde yer alan dağ sıraları Doğuda birbirine yaklaşır

61. Sıcaklık dağılışı üzerinde yükseltinin belli bir etkisi vardır.

Bu etki kaldırıldığında, Türkiye'nin yıllık sıcaklık ortalamalarının nasıl olması beklenir?

- A) Kıyılarda yüksek, iç kesimlerde düşük
- B) Kuzey ve Güneyde düşük, iç kesimlerde yüksek
- C) Güneyde yüksek, Kuzeyde düşük
- D) Doğuda yüksek, Batıda düşük
- E) Her yerde eşit