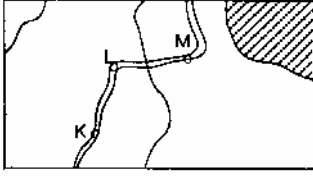


52. Yeryüzünün bir bölümünün kuşbakışı olarak çizilmesiyle elde edilen şekillerin harita özelliğini taşıyabilmesi için, öncelikle aşağıdakilerden hangisi gereklidir?

- A) Yükseklik değerlerinin, verilmiş olması
- B) Kullanılan işaretlerin açıklanmış olması
- C) Eşyüksekti eğrileriyle çizilmiş olması
- D) Enlem-boylam dairelerinin belirtilmiş olması
- E) Çizimin belli bir ölçeğe göre yapılmış olması

53.



Yukarıdaki haritada, KLM yolunun uzunluğu 3,5 cm dir. Bu yolun gerçek uzunluğu 7 km olduğuna göre haritanın ölçeği nedir?

- A) 1/100 000
- B) 1/200 000
- C) 1/350 000
- D) 1/ 400 000
- E) 1/500 000

59. Yazları ılık, kışları soğuk ve her mevsimi yağışlı geçen bir bölgenin, doğal bitki örtüsü aşağıdakilerden hangisine uyar?

- A)Savan B) Orman C) Bozkır
- D)Tundra E) Maki

60. Bir bölgenin yer şekilleri, o bölgede esen rüzgarlara yön verici etkenlerden biridir.

Buna göre, boğaz kenarında bulunan Çanakkale' de rüzgarın en çok hangi yönden esmesi beklenir?

- A) Güneyden
- B) Batıdan
- C) Kuzeybatıdan
- D) Güneydoğudan
- E) Kuzeydoğudan

61. Aşağıdakilerden hangisi, Doğu Anadolu'nun ekonomik görünümünün değişmesinde, doğrudan etkili değildir?

- A) Sağlık hizmetlerinin yaygınlaştırılması
- B) Endüstri kuruluşlarının çoğaltılması
- C) Ulaşım ağının geliştirilmesi
- D) Yatırımlara kolaylık sağlanması
- E) Yeraltı kaynaklarının işletilmeye başlanması

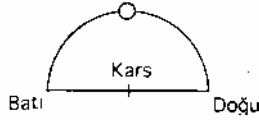
62. Marmara Bölgesinde ekili ve dikili toprakların oranı öteki bölgelerdekinden fazladır. Buna rağmen Marmara Bölgesi, öteki bölgelerden tarım ürünleri alır.

Bu durumun ana nedeni aşağıdakilerden hangisi olabilir?

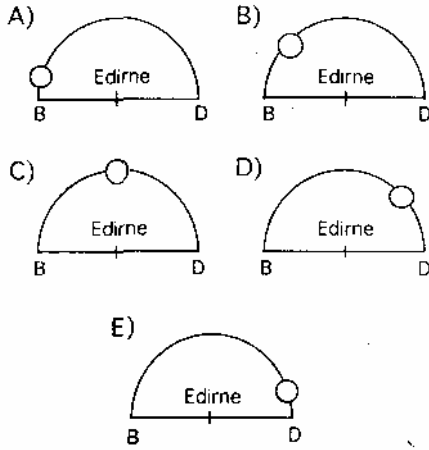
- A) Ürünlerde çeşit azlığı
- B) Nüfusun fazla oluşu
- C) Toprakların verimsizliği
- D) İklimin elverişsizliği
- E) Sulanabilen alanların azlığı

54. Bir ülke içinde, her yerin kendine özgü "yerel saat"i vardır. Ancak o ülkede bunlardan sadece biri ya da birkaçı ortak saat olarak kullanılır. Bir ülkede birden çok ortak saat kullanılmasının nedeni aşağıdakilerden hangisidir?
- A) Ülkede iletişim ağının yetersiz olması
 B) Ülkenin Doğu - Batı yönünde geniş bir alan kaplaması
 C) Büyük yerleşim merkezlerinin birbirinden uzak olması
 D) Ülkenin Ekvator'a uzak olması
 E) Ülkenin adalar üzerinde bulunması

55.

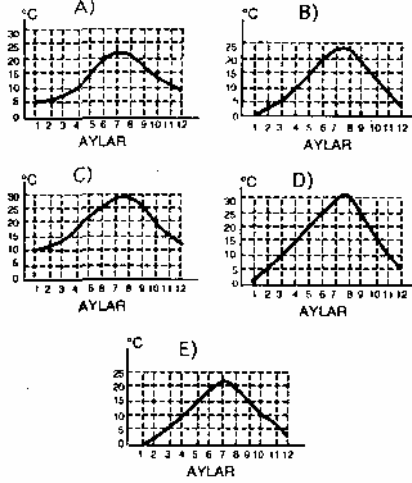


Güneş, yandaki gibi, Kars boylamı üzerindeyken Edirne' den hangi konumda görünür?



63. Türkiye'de mısır üretiminin yarısı Karadeniz Bölgesinden sağlanır. Buna rağmen, üretilen mısırın bölge ticaretinde önemli bir yerinin olmaması ne ile açıklanabilir?
- A) Bölge halkının temel besini olmasıyla
 B) Dayanıksız bir ürün olmasıyla
 C) Besin değerinin az olmasıyla
 D) Piyasa fiyatının düşük olmasıyla
 E) Dış satım imkanlarının sınırlı olmasıyla
64. Türkiye'de tütün üretiminde yıllara göre dalgalanmaların az olması aşağıdakilerden hangisiyle açıklanabilir?
- A) Toprağın her yıl ekilmesiyle
 B) İhraç imkanlarının sınırlı olmasıyla
 C) İç tüketim miktarının sabit kalmasıyla
 D) Üretimin devlet kontrolünde olmasıyla
 E) Üreticiye sağladığı gelirin yetersiz olmasıyla
65. Türkiye'de, besi ve ahır hayvancılığının genellikle şeker fabrikası bulunan yörelerde yoğunlaşması, aşağıdakilerden hangisine bağlanabilir?
- A) Şekerpancarının yem bitkileriyle dönüşümlü ekilmesine
 B) Otlakların pancar üretimine ayrılmasına
 C) Şekerpancarından sağlanan gelirin yetersiz olmasına
 D) Çiftlik gübresinin pancar tarlalarında kullanılmasına
 E) Şekerpancarı küspesinin hayvan yemi olarak kullanılmasına

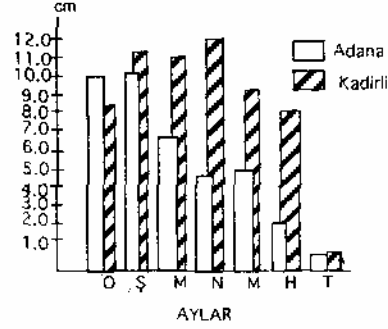
56. Ortalama sıcaklığı 20 derecenin üstünde olan ay yaz ayı kabul edilirse, aşağıda yıllık sıcaklık grafiği görülen yörelerin hangisinde yaz süresi en uzundur?



57. Kuzeybatı Avrupa kıyılarının Orta Avrupa'ya göre daha yumuşak bir iklime sahip olması aşağıdakilerden hangisi ile sıcaklık arasındaki ilişkiye ters düşer?
- A) Yükselti
B) Enlem
C) Basınç
D) Hava kütleleri
E) Kıyı şekilleri

58. Çok kısa bir süre içinde birdenbire kabararak coşkun bir şekilde akan, sonra kuruyacak duruma gelen akarsulara "sel rejimli akarsular" denir. Bölgelerin yağış rejimi göz önüne alındığında, sel rejimli akarsuların daha çok hangi bölgede görülmesi beklenir?
- A) Karadeniz Bölgesinde
B) Marmara Bölgesinde
C) Ege Bölgesinde
D) İç Anadolu Bölgesinde
E) Doğu Anadolu Bölgesinde

66. Aşağıdaki grafik, Adana ve Torosların Güney eteklerinde bulunan Kadırlı İlçesinin Ocak - Temmuz arasındaki aylık ortalama yağış miktarını göstermektedir.



Bu aylarda yöre, daha çok Güney ve Güneybatı yönlü rüzgarların etkisinde kaldığına göre, Kadırlı'nın daha çok yağış alması bu ilçenin hangi özelliğiyle açıklanabilir?

- A) Sıcaklığının fazla olmasıyla
B) Soğuk rüzgarlara kapalı olmasıyla
C) Kuzeyinde yüksek dağlar bulunmasıyla
D) Ceyhan nehri boyunca bulunmasıyla
E) Orman alanı içinde bulunmasıyla