


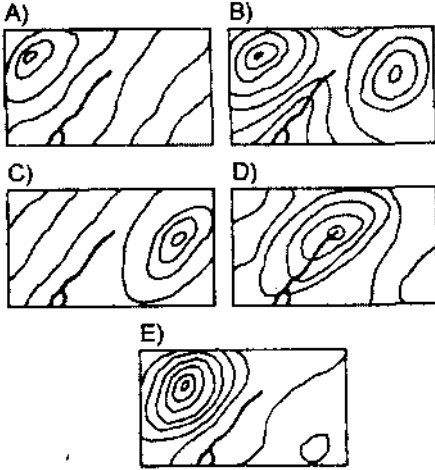
51. Türkiye'de illerin dağılışını (idari bölünüş) gösteren haritalar, aşağıdakilerden hangisi için elverişli değildir?

- A) Alan hesaplama
- B) Konum belirleme
- C) Uzaklık hesaplama
- D) Profil çıkarma
- E) Yön bulma

52.



Yandaki blokdiyagramda görülen yerşeklinin, eşyüksekti eğrileriyle gösterilmiş şekli aşağıdakilerden hangisi olabilir?



53. Gelgit, deniz akıntısı ve akarsuların, oluşumuna katkıda buldukları yerşekli aşağıdakilerden hangisidir?

- A) Haliç
- B) Plato
- C) Fiyord
- D) Delta
- E) Vadi

54. Akarsu erozyonu ile rüzgar erozyonunun birlikte etkin olduğu yörelerin ortak özelliği, aşağıdakilerden hangisidir?

- A) Tarıma elverişlilik
- B) Eğim fazlalığı
- C) Bitki örtüsünden yoksunluk
- D) Toprak örtüsünün kalın olması
- E) Yağışların yağmur olarak düşmesi

60. Doğu Anadolu'nun kuzey kesimlerinde akarsuların en çok alçaldıkları dönem kış ortalarına rastlar.

Bu durum aşağıdakilerden hangisiyle ilişkidir?

- A) Akarsu yataklarının eğimiyle
- B) Yağış miktarıyla
- C) Yağış düzeniyle
- D) Akarsuların uzunluğuyla
- E) Yağış biçimiyle

61. 1935 ile 1970 yılları arasında Türkiye'de köy nüfusu % 70, şehir nüfusu ise % 233 artmıştır.

Şehir nüfusundaki hızlı artış, daha çok, aşağıdakilerden hangisine bağlanabilir?

- A) Doğum oranının yüksek olmasına
- B) Evli nüfusun fazla olmasına
- C) Göçle gelenlerin çoğalmasına
- D) Çocuk ölümlerinin az olmasına
- E) Ortalama ömrün uzun olmasına

62. Şeker pancarı tarladan söküldükten sonra uzun süre bekletilmeden işlenmesi gereken bir endüstri bitkisidir.

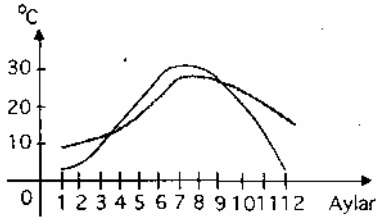
Aşağıdakilerden hangisi bu gerekliliği karşılayıcı bir önlem olabilir?

- A) Şeker pancarı üretiminin devletçe teşvik edilmesi
- B) Şeker pancarının sulak bölgelerde yetiştirilmesi
- C) Üretim alanlarının sınırlı tutulması
- D) Şeker fabrikalarıyla üretim alanlarının yakın olması
- E) Aynı tarlaya iki yılda bir ekim yapılması

55. Sıcak ve soğuk karakterli hava kütlelerinin karşılaşma alanlarında aşağıdakilerden hangisinin görülmesi beklenir?

- A) Yağış
- B) Yüksek basınç
- C) Şiddetli rüzgar
- D) Yüksek sıcaklık
- E) Don olayı

56.



Yukarıda, iki kentin aylık ortalama sıcaklık grafiği verilmiştir.

Bu kentlerin Kuzey Yarımküre'de yer aldığını söyleyebilmek için aşağıdakilerden hangisi kanıt gösterilebilir?

- A) Sıcaklığın bütün yıl sıfır derecenin üstünde olması
- B) Sıcaklığın en yüksek değerine yedinci ve sekizinci aylarda ulaşması
- C) Sıcaklık eğrilerinin yılda iki kez kesişmesi
- D) Dördüncü ve onuncu ay sıcaklık değerlerinin birbirine yakın olması
- E) Yedinci ve sekizinci ay sıcaklıklarının eşit olması

63. Türkiye'de 1975 ve 1983 yılları arasında çay üretimi ile ilgili bazı bilgiler şöyledir:

Yıllar :	1975	1980	1983
Üretici Sayısı (Bin Kişi) :	128	179	188
Üretilen yaş çay (Bin ton) :	262	476	436

Belirtilen yıllarda, çay üretimi ile ilgili diğer koşullarda değişme olmadığı farzedilirse, yalnız verilen bilgilere göre aşağıdakilerden hangisi söylenebilir?

- A) Üretici sayısı arttıkça ürün de artmıştır
- B) Yaş çay üretimi yıldan yıla düzenli olarak artmıştır
- C) Birim alandan en yüksek verim 1980'de alınmıştır
- D) 1983'te üretici başına 4 ton çay üretilmiştir
- E) Üretici başına düşen yaş çay miktarı düzenli olarak artmıştır

64. Aşağıdakilerden hangisi, bir yerleşim merkezinin büyümesinde en az etkilidir?

- A) Ticaret
- B) Endüstri
- C) Maden
- D) Mimari
- E) Turizm

65. İleri üretim teknolojisine sahip olan bir ülkede aşağıdakilerden hangisinin görülmesi beklenmez?

- A) Birim zamandaki üretimin fazla olması
- B) İhtiyaçların karşılanmasında bilimsel bilgilerden yararlanılması
- C) Üretimde standartlara uygunluğun sağlanması
- D) Mesleki eğitimin usta - çırak ilişkisi içinde yapılması
- E) İnsan gücünden tasarruf sağlanması

57. "Yapılan gözlemlere göre, hafta sonundan itibaren batı bölgelerimizde hava sıcaklığı mevsim normallerinin altına düşecektir."

Aşağıdakilerden hangisine dayanarak böyle bir hava tahmini yapılmış olabilir?

- A) Hafta boyunca bölgede yoğun sis görülmesine
- B) Hafta içinde kar yağışlarının başlamasına
- C) Önceki haftalarda, hava sıcaklığının sürekli olarak düşmesine
- D) Hafta içinde hava basıncının sürekli olarak yükselmesine
- E) Batıdan bir soğuk hava kütesinin yaklaşmakta olmasına

58. **Aşağıdakilerden hangisi üzerinde iklimin doğrudan etkili olduğu söylenebilir?**

- A) İç Anadolu' da tahıl tarımının yaygın olması
- B) Mersin ve İskenderun gibi merkezlerin hızla gelişmesi
- C) Kıl keçisinin ormanlık yörelerde beslenmesi
- D) Balıkçılığın Karadeniz Bölgesi'nde yaygın olması
- E) Marmara Bölgesi'nin en yoğun nüfuslu bölge olması

59. **Marmara Bölgesi'nde yetiştirilen başlıca ürünler, aşağıdakilerin hangisinde bir araya getirilmiştir?**

- A) Buğday, fındık, çay, tütün
- B) Ayçiçeği, mısır, pancar, tütün.
- C) İncir, üzüm, zeytin çay
- D) Buğday, arpa, pamuk, meyve
- E) Pamuk, pirinç, muz, turunçgiller