

52.



Haritada belirtilen şehirlerin hangisinde gece - gündüz uzunluğu, yıl boyunca **en az** değişir?

- A) Washington B) Moskova
C) Kolombo D) Mekke
E) Kap

53.



Türkiye'de yerel saat kullanılsa, 33 derece doğu boylamında yer alan Ankara'da saat 9.00 iken Siirt'te 9.36 olur.

Buna göre, Siirt hangi boylam üzerindedir?

- A) 42 derece doğu
B) 41 derece doğu
C) 40 derece doğu
D) 39 derece doğu
E) 38 derece doğu

59. Samsun'dan Rize'ye giderken yol boyunca gördüğü bir bitki hakkında, "Bu bitki Türkiye'nin her bölgesinde yetişir." diyen bir kişinin söz konusu bitkiyi hangi bölgede görmüş olması bu yargısına destek **sağlamaz**?

- A) Akdeniz
B) Doğu Anadolu
C) İç Anadolu
D) Güneydoğu Anadolu
E) Marmara

60. Türkiye'nin az çok her tarafında yetişebilen mercimek, tarım ürünleri arasında nem ihtiyacı en az olan bitkilerdendir. Tarım alanlarının, bitkilerin nem ihtiyaçlarına göre bölümlere ayrılarak kullanıldığı düşünülse, mercimek tarımı için en uygun bölge aşağıdakilerden hangisidir?

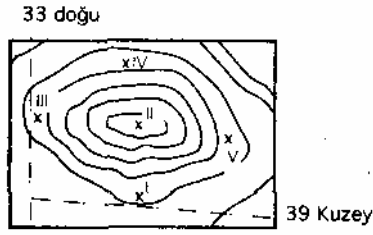
- A) Güneydoğu Anadolu bölgesi
B) Doğu Anadolu bölgesi
C) Karadeniz bölgesi
D) Marmara bölgesi
E) Ege bölgesi

61. Doğu Anadolu'da hayvancılık önemli bir yer tutar. Özellikle Kars yöresinde büyükbaş hayvancılığın çok gelişmiş olması aşağıdakilerden hangisiyle açıklanabilir?

- A) Uzun yıllarda kazanılan deneyimlerle
B) Devlet desteği ve özendirmeyle
C) Hayvan ıslahındaki gelişmelerle
D) Suni yem teminindeki kolaylıklarla
E) Yaz yağışıyla oluşan gür otlaklarla

54. Sıcaklığın yıl içinde dağılışı bakımından birbirine en çok benzeyen kent çifti, aşağıdakilerden hangisi olabilir?
- A) Trabzon- Sivas
B) Zonguldak- Bolu
C) Adana- Diyarbakır
D) Zonguldak- Trabzon
E) Iğdır - Adana

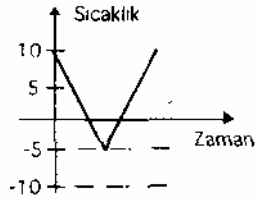
55.



Bulutsuz ve rüzgarsız bir günde, saat 12.00 de ölçülen sıcaklığın en yüksek olması gereken nokta, yukarıdaki haritada kaç numara ile gösterilmiştir?

- A) I B) II C) III D) IV E) V


56. Atmosferde yol alan bir balonun sıcaklık değişim grafiği yanda verilmiştir.



Atmosferde yükseldikçe her 100 m de hava sıcaklığı 0,5 derece azaldığına göre bu balonun yerden yüksekliğinin değişimini gösteren grafik aşağıdakilerden hangisine benzer?

62. Tarım alanlarından bir yıl içinde birden çok ürün alma bakımından en elverişli koşullara sahip olan bölge aşağıdakilerden hangisidir?
- A) Marmara bölgesi
B) Akdeniz bölgesi
C) Karadeniz bölgesi
D) İç Anadolu bölgesi
E) Güneydoğu Anadolu bölgesi

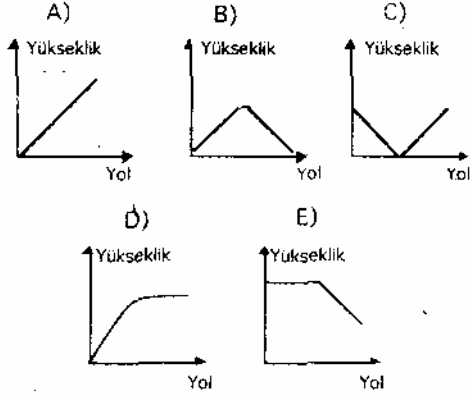
63.



Yukarıdaki harita, Türkiye'deki pancar ekim alanlarını göstermektedir. Pancar tarımının, Karadeniz, Ege ve Akdeniz kıyılarında yapılmaması aşağıdakilerden hangisine bağlanabilir?

- A) Nem fazlalığına
B) Yerşekillerinin elverişsizliğine
C) Toprak türünün elverişsizliğine
D) Buharlaşmanın azlığına
E) Kıyıların başka ürünlere ayrılmasına

64. Türkiye, dış ülkelere krom cevheri ve krom bileşik'leri satan birkaç ülke arasında yer alır. Türkiye' de üretilen kromun dış piyasada her zaman alıcı bulması, aşağıdakilerden hangisine bağlanabilir?
- A) Kolay işlenebilir olmasına
B) Kullanım alanının yaygınlığına
C) Alıcı ülkelere yakınlığına
D) Kalitesinin yüksek olmasına
E) Üretim teknolojisinin gelişmişliğine



57. İç Anadolu'da, bazı yerleşim merkezleri çevresindeki korunmuş alanlarda orman ağaçlarının yetişebilmesi, bu bölgeyle ilgili olarak neyi düşündürür?

- A) Bulunduğu enlemlere göre daha sıcak olduğunu
- B) Yıllık yağışlarının düzenli olduğunu
- C) Doğal bitki örtüsünün tümüyle gerçek bozkır olmadığını
- D) İkliminin karasal olmadığını
- E) Ormanın kolayca yetiştirilebileceğini

58. Türkiye, genelde Akdeniz ikliminin yayılış alanına girer. Buna karşın, yurdumuzda birbirinden belirgin farklarla ayrılabilen iklim tipleri görülür. Bu farklılaşmada aşağıdakilerden hangisinin etkisi yoktur?

- A) Yerçekli
- B) Denize göre konum
- C) Rüzgarların yönü
- D) Bölgelerin genişliği
- E) Yükselti

65. Nüfus yoğunluğu, A ilinde 45, B ilinde 60, C ilinde 75 tir.

Buna göre, aşağıdakilerden hangisi doğrudur?

- A) C ilinin nüfusu A ve B ilinden fazladır
- B) C ilinin her yerinde nüfus yoğunluğu aynıdır
- C) Nüfusu en az olan il A dir
- D) Her üç ilin nüfusu da birbirine yakındır
- E) Yoğunluk tek başına nüfus sayısını göstermez