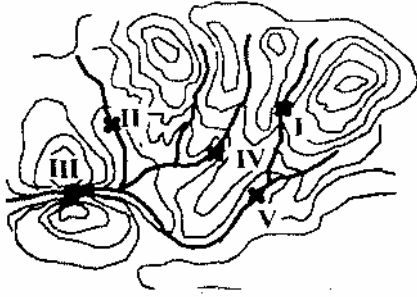


57. Aşağıdakilerden hangisi, yerkürenin günlük ve yıllık hareketlerine bağlı olarak **değişmez**?

- A) Yer ekseninin Ekvator düzlemiyle yaptığı açı
- B) Dünyanın Güneşe göre konumu
- C) Gece ve gündüzün uzunluğu
- D) Güneşin doğuş ve batış saatleri
- E) Güneş ışınlarının yere değme açısı

58.



Yukarıdaki haritada görülen akarsu vadisinde, yamaçların en dik olduğu kesim hangisidir?

- A) I B) II C) III D) IV E) V

59. İki kent arasındaki uzaklık 10 km. dir. Bir haritada bu uzaklık 10 cm. ile gösterildiğine göre bu haritanın ölçeği nedir?

- A)  $\frac{1}{10.000}$  B)  $\frac{1}{25.000}$  C)  $\frac{1}{50.000}$   
D)  $\frac{1}{100.000}$  E)  $\frac{1}{200.000}$

65. Kanada'nın bazı bölgelerinde, doğal olarak yetişen ve besleyici değeri çok yüksek şekerli bir özsu elde edilen "şeker akçaağacı"nı, Orman Araştırma Enstitüsü Doğu Anadolu bölgesinde yetiştirmeyi planlamaktadır. Bunun için neden Doğu Anadolu bölgesi seçilmiş olabilir?

- A) Tarımda kullanılmayan geniş alanların olmasından
- B) Kanada ile aynı enlemler arasında yer almasından
- C) Kanada'dakine benzer iklim özelliklerine sahip olmasından
- D) Bu bölgedeki gelir kaynaklarını arttırmaya öncelik tanınmasından
- E) Orman yetiştirmeye elverişli bir bölge olmasından

66. Türkiye'de değişik mevsim özelliklerinin aynı zamanda görülebilmesini sağlayan başlıca etken nedir?

- A) Yerçekillerinin çeşitliliği
- B) Ilıman iklim kuşağında yer alması
- C) Denizlerle çevrili olması
- D) Geniş topraklara sahip olması
- E) Bitki örtüsünün çeşitlilik göstermesi

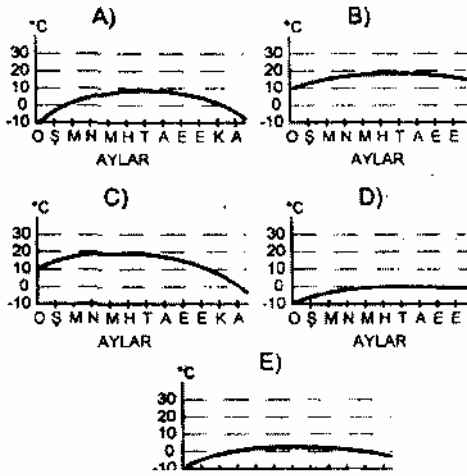
67. Sonbaharda ekilen buğdayın Doğu Anadolu ve İç Anadolu bölgesinde farklı zamanlarda olgunlaşması, sıcaklıkla aşağıdakilerden hangisi arasındaki ilişkiyi gösterir?

- A) Denize yakınlık
- B) Yağış miktarı
- C) Toprak çeşidi
- D) Enlem
- E) Yükselti

60. Normal koşullarda, günlük hava sıcaklığının en düşük olduğu zaman, Güneşin doğma saatleridir. Bu durum aşağıdakilerden hangisiyle ilgilidir?

- A) Gündüzleri alınan ısının yetersizliğiyle
- B) Yeryüzünün gece boyunca ısı kaybetmesiyle
- C) Geceleri atmosferde nem oranının artmasıyla
- D) Gece - gündüz sıcaklık farkının az olmasıyla
- E) Geceleri hava basıncının düşmesiyle

61. En sıcak ve en soğuk ay ortalamaları arasındaki sıcaklık farkı 15° santigratı geçmeyen bir bölgede bütün mevsimlerdeki yağışlar yağmur olarak düşüyorsa bu bölgenin yıllık sıcaklık grafiği aşağıdakilerden hangisine benzer?



68. Türkiye'de doğal yetişme alanı en dar olan bitki, aşağıdakilerden hangisidir?

- A) Buğday
- B) Tütün
- C) Pancar
- D) Zeytin
- E) Elma

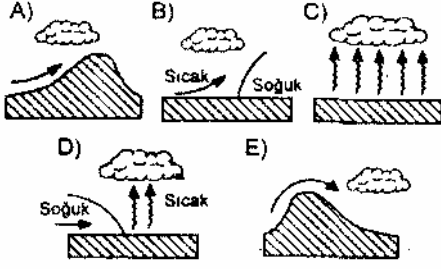
69. Türkiye'de sebze ve meyve konserveçiliği ileri bir düzeye geldiği halde, konserve tüketimi beklendiği kadar artmamıştır. Bu durum aşağıdakilerden hangisiyle açıklanamaz?

- A) İç pazarlara sunulan konserveçinin yetersiz olmasıyla
- B) Her mevsimde taze sebze ve meyve bulunabilmesiyle
- C) Halkın, konserveçinin besin değerinin düşük olduğuna inanmasıyla
- D) Konserve kullanma alışkanlığının yaygınlaşmamış olmasıyla
- E) Konserveçinin, mevsimin sebze ve meyvelerinden pahalı olmasıyla

70. İç Anadolu bölgesinin, Akdeniz, Ege, Marmara ve Karadeniz bölgelerine göre daha az nüfuslanmış olmasında, aşağıdakilerden hangisi önemli bir etken değildir?

- A) Yağışların yetersizliği
- B) Kışların uzun ve sert oluşu
- C) Ulaşım güçlükleri
- D) Ürün çeşidinin azlığı
- E) Gelir kaynaklarının sınırlı oluşu

62. Aşağıda gösterilen hava hareketlerinden hangisi yağış getirmez?



63. Deniz düzeyinden yukarı çıktıkça atmosferin yoğunluğu azaldığına göre, denizden yüksekliği fazla olan bir yerde aşağıdakilerden hangisi gözlenir?

- A) Sıcaklığın fazla olması
- B) Gökyüzünün kapalı olması
- C) Sürekli rüzgâr esmesi
- D) Havanın çabuk ısınıp soğuması
- E) Atmosferde su buharının artması

64. Türkiye'de ocak ve şubat aylarında görülen hava olayları Arjantin'de temmuz ve ağustos aylarında görülebilmektedir. Bu durum Arjantin'in hangi özelliği ile ilgilidir?

- A) Güney yarımkürede yer almasıyla
- B) Sürekli yüksek basınç merkezlerinin etkisinde kalmasıyla
- C) Güneydoğu alizelerine açık olmasıyla
- D) Kuzey - Güney doğrultusunda uzanmasıyla
- E) Batı rüzgârlarına kapalı olmasıyla

71. Yurt dışında çalışan Türk işçilerinden yurda dönenler için alınabilecek aşağıdaki önlemlerden hangisinin Türk ekonomisi için yararlı olması beklenir?

- A) Emekliye ayırarak emekli aylığı bağlamak
- B) Küçük esnaf olmaya özendirmek
- C) İşsizlik sigortası kapsamına almak
- D) Taşınmaz mallar (gayrimenkul) almaya özendirmek
- E) Birleşerek sanayi işletmeleri kurmalarını sağlamak