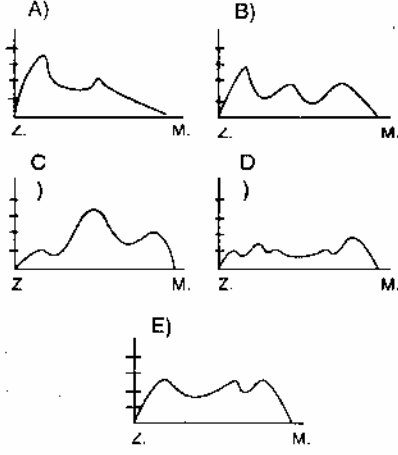
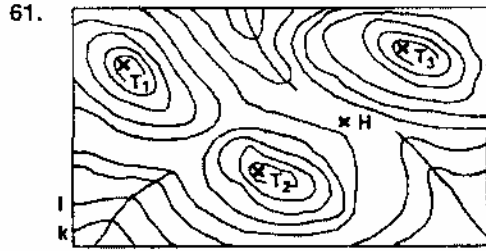


59. Aşağıdakilerden hangisi Zonguldak ile Mersin arasında çıkarılacak profile en yakındır?



60. Ölçeği  $\frac{1}{200\,000}$  olan bir haritada 5 cm lik uzaklık gerçekte kaç km dir?  
A) 2 B) 5 C) 10 D) 20 E) 40

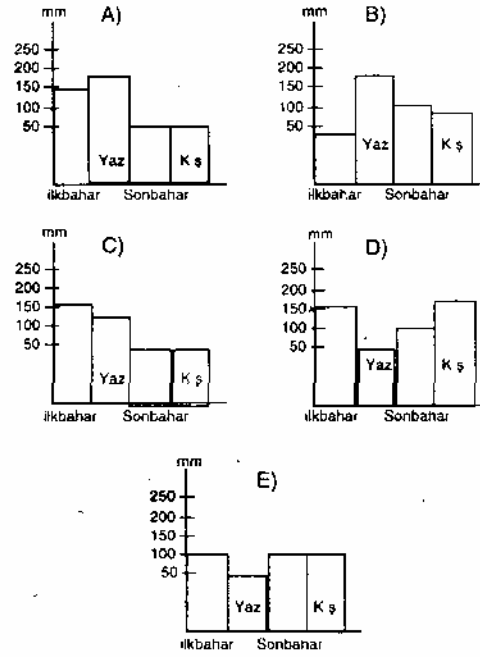


- Yukarıdaki haritada görülen eşyük-selti eğrilerinden I nin değeri 100 m, k nin değeri 50 m ise, H noktasının yüksekliği hangi değerler arasında kalır?  
A) 50-100 B) 100-150 C) 150-200  
D) 200-250 E) 250-300

67. Aşağıdaki kentlerimizin hangisindeki nüfus artışı, Karadeniz Ereğli-si'ndeki nüfus artışından farklı bir nedene bağlanabilir?

- A) Batman  
B) Kırıkkale  
C) Akhisar  
D) Karabük  
E) İskenderun

68. Ocak .....26 Temmuz..... 59  
Şubat.....30 Ağustos..... 47  
Mart .....32 Eylül..... 30  
Nisan .....48 Ekim..... 39  
Mayıs.....87 Kasım ..... 29  
Haziran .....84 Aralık ..... 42  
Yukarıda aylık yağış ortalamaları verilen bir gözlemevinin mevsimlere göre yağış durumunu gösteren grafik aşağıdakilerden hangisidir?



62. Güneşin, görünen günlük ve yıllık hareketleri göz önüne alındığında, Ankara'da yatay bir düzlem üzerine dik olarak yerleştirilen 1 metrelik bir çubuğun gölge uzunluğunun sıfır olması olanaklı mıdır, neden?

- A) Olanaklıdır. Çünkü, Haziran'da gündüzler çok uzundur
- B) Olanaklıdır. Çünkü Güneş öğleyin tepe noktasından geçer
- C) Olanaklı değildir. Çünkü hareket eden Güneş değil Dünya'dır
- D) Olanaklı değildir. Çünkü, Ankara dönenceler dışında yer alır
- E) Olanaklı değildir. Çünkü, çubuk uzundur

63. Yerkürenin kendi eksenini çevresindeki hızı Ekvator'da yaklaşık 1670 km/saattir. Yerküre çevresinde, dairesel bir yörüngede hareket eden uzay aracından, Ekvator üzerindeki sabit bir nokta sürekli olarak görülmekte ise bu uzay aracının hızı için ne söylenebilir?

- A) Hep aynı nokta görüldüğünden, Yerin dönme hızına eşittir
- B) Yörüngesi yerküreninkinden kısa olduğu için, Yerin dönme hızından küçüktür
- C) Yerden uzaklığı bilinmediğinden, bir şey söylenemez
- D) Yerçekiminden etkilenip etkilenmediği bilinmediğinden, bir şey söylenemez
- E) Yerkürenin dışında döndüğü için Yerin hızından büyüktür

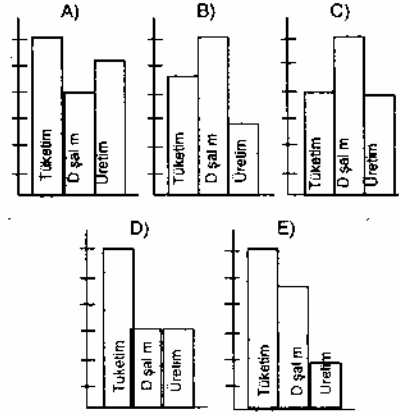
64. Akdeniz ve Karadeniz iklimlerinin özelliklerini en iyi tanıtan bitki çifti hangisidir?

- A) Buğday - Mısır
- B) Fındık - Zeytin
- C) Pamuk - Tütün
- D) Fındık - Çay
- E) Mısır - Tütün

69. Türkiye, günümüzde sanayi ürünlerinin bir kısmını dış ülkelere satar hale gelmiştir. Bir çok sanayi dalında ise henüz istenen düzeye erişememiştir. Ürünleri dışsatımda önemli yer tutan sanayi dallarının bugünkü düzeye ulaşmalarında aşağıdakilerden hangisinin katkısı en azdır?

- A) Yatırım giderlerinin az olması
- B) Üretim teknolojilerinin basit olması
- C) Hammaddelerinin yurt içinden sağlanması
- D) Cumhuriyet'ten önce üretime geçmiş olmaları
- E) Pazar bulma olanaklarının elverişliliği

70. Türkiye'nin bir yılda ürettiği, tükettiği ve dışardan satın aldığı petrol miktarlarını gösteren grafik, aşağıdakilerden hangisi olabilir?

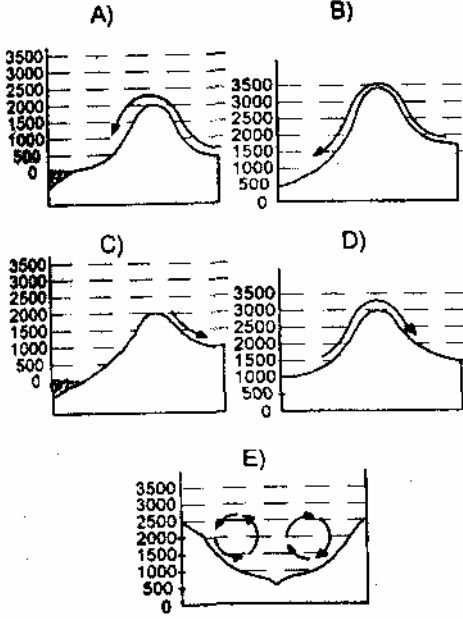


71. "Güneydoğu Anadolu, tarım ve hayvancılık gelirleri yüksek olan bir bölgedir. Ekili - dikili alanların oranı Türkiye ortalamasının üstünde ve Doğu Anadolu Bölgesinden iki kat fazladır. Bu parçada anlatılanlardan, Güneydoğu Anadolu Bölgesi ile ilgili nasıl bir sonuca ulaşılabilir?

- A) Hayvan sayısı en çok olan bölgedir
- B) Yüzölçümü Doğu Anadolu'dan büyüktür
- C) Yerçekilleri tarıma elverişlidir
- D) Ekonomiye katkısı her alanda en baştır
- E) Sulu tarımın en yaygın olduğu bölgedir

65. Bir dağ yamacından aşağı doğru esen rüzgârın sıcaklığı artar, çevrede nem açığı oluşur. Bitkileri kurutucu etki yapan bu tip rüzgârlara Föhn rüzgârı denir.

Buna göre, aşağıda gösterilen durumların hangisinde rüzgârın kurutucu etkisinin en çok olması beklenir?



66. Aşağıdakilerden hangisi, Batı Anadolu akarsularının çok lîğ (alüvyon) taşıdıklarına en güçlü kanıttır?

- A) Sık sık taşarak çevrelerindeki ovaları çamur gölü haline getirmeleri
- B) Kaynaklarıyla ağızları arasında yükselti farkının fazlalığı
- C) Geniş bükümler (menderesler) yaparak akmaları
- D) Bitki örtüsünden yoksun dağlık yörelerden kaynaklanmaları
- E) Denize döküldükleri yerlerde geniş deltalar oluşturmaları

72. "İç Anadolu Bölgesinin ekim yapılan yörelerinde, ekilen tohumun niteliği ve ekim yöntemleri değişmediği halde buğday verimi, kurak yıllarda hektar başına 100 - 200 kilografa düşerken yağışlı yıllarda 2000 kilografa çıkmaktadır."

Bu gözleme göre, İç Anadolu Bölgesinde buğday veriminin artması neye bağlıdır?

- A) Sulama gereksiniminin karşılanmasına
- B) Ekili alanların gübrenmesine
- C) Ekim alanlarının genişletilmesine
- D) Nitelikli tohum kullanılmasına
- E) Makine gücünden yararlanılmasına

73. Aşağıdakilerden hangisinin, bir bölgedeki sanayileşme ile yakından ilişkili olduğu söylenemez?

- A) Bölgenin pazar olarak genişlemesinin
- B) Ticari ve mali etkinliklerde artışın
- C) Ulaştırma hizmetlerindeki gelişmenin
- D) Turizm yatırımlarındaki artışın
- E) Makine gücünden yararlanılmasının

74. "Ekonomik yönden gelişmiş ülkeler, geliştirmekte olan ülkelere bağış, kredi vb. biçimlerde sermaye aktarmaktadırlar."

Gelişmiş ülkelerin böyle davranmaları aşağıdakilerden hangisi ile en az ilişkilidir?

- A) Pazar bulma ve ihracat yapma olanaklarını artırma
- B) Geliştirmekte olan ülkelerdeki hammadde üretimini artırarak kendi gereksinimleri giderme
- C) Sermaye aktarılan ülke üzerindeki siyasal etkilerini artırma
- D) Geliştirmekte olan ülkelerde hammaddelerin yarı işlenmiş hale getirilmesini sağlayarak maliyeti düşürme
- E) Ülkelerindeki kamuoyunun geliştirmekte olan ülkelere yardım edilmesi yolundaki isteklerini karşılama