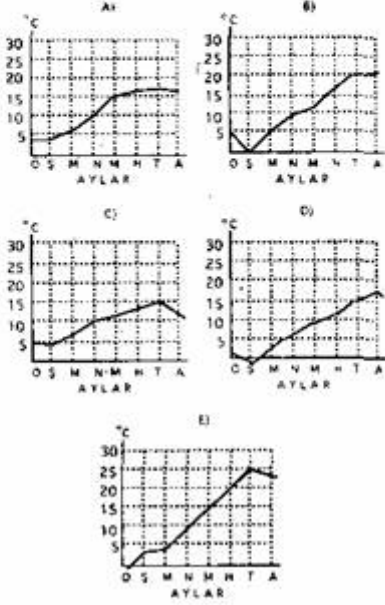


57. "Bir bölgede, Ocak ile Temmuz ayı ya da Şubat ile Ağustos ayı sıcaklık ortalamaları arasındaki fark büyükse o bölgenin iklimi karasal, küçükse denizel olarak nitelendirilir."

Buna göre, aşağıdaki aylık sıcaklık ortalamaları grafiklerle gösterilen bölgelerin hangisinde, karasal iklim özellikleri en belirgindir?



65. Bir çiftlikte, bir mevsim boyunca üretilen süt miktarıyla o çevreye düşen yağış miktarı arasında, hangi durumda bir paralellik görülür?

- A) Ahır hayvancılığı yapılıyorsa
B) Mera hayvancılığı yapılıyorsa
C) Hayvan sayısı çoksa
D) Hayvanlar büyükbaş ise
E) Hayvanlar iyi cins ise

66. "İzmit, Van ve Beyşehir gibi merkezlerin her birinde görülen günlük sıcaklık farkları, Afyon, Çankırı ve Sivas gibi merkezlerin her birinde görülen günlük sıcaklık farklarından daha azdır."

Buna göre, aşağıdaki kentlerin hangisinde günlük sıcaklık farkı en azdır?

- A) Uşak B) Burdur C) Urfa
D) Niğde E) Çorum

67. "Yerçekillerinin biçimi iç ve dış kuvvetlerin etkisiyle sürekli olarak değişir."

Aşağıdakilerin hangisinde iç kuvvetlerin payı en büyüktür?

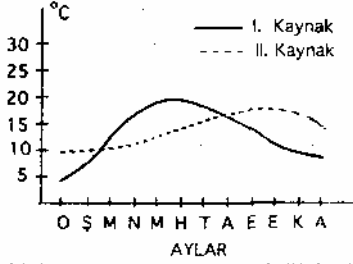
- A) Mağara oluşumunda
B) Kıyı şekillenmesinde
C) Dağ oluşumunda
D) Kayaların ufalanmasında
E) Vadilerin oluşumunda

68. "..... Sözelimi 60° enleminde bir yörenin iklim elemanlarının gösterdiği değerler, 40° enleminde de görülebilir. Ancak bu iki yörenin yükseltileri, yerçekilleri, vb. genellikle birbirinin aynı değildir."

Bu parçada aşağıdaki sorulardan hangisi yanıtlanmış olmaktadır?

- A) Yeryüzünde sıcaklık ve yağış, sadece enlemlere göre mi değişir?
B) Yeryüzünde, matematik iklim kuşakları nasıl dağılır?
C) İklim elemanları nelerdir?
D) Bitki örtüsü bir yörenin iklimi hakkında bilgi verir mi?
E) Deniz etkisi iklimlerin bir belirleyicisi midir?

58.



Yukarıdaki grafik, iki değişik kaynak suyunun bir yıl boyunca hava sıcaklığından etkilenme derecelerini göstermektedir.

Bu kaynak suları için aşağıdakilerden hangisi doğru değildir?

- A) II. kaynağın suyu her mevsimde daha soğuktur
- B) Her iki kaynağın su sıcaklıkları yaz aylarında yüksek, kış aylarında düşüktür
- C) Yazın daha sıcak olan kaynağın suyu kışın daha soğuktur
- D) İlkbahar ve sonbaharda her iki kaynağın su sıcaklıkları birbirine yakındır
- E) I. kaynağın suyu, II. kaynağın suyundan daha erken ısınmaktadır

59.

"Okul otobüsü yamacı ağır ağır tırmandıktan sonra geçitte durdu. Yükselti 1584 metre idi. Öğretmen 'Çıktığımız yamacın eğimi % 45 tir. Bu yamacı çıkarken üzerinden geçtiğimiz yolun eğimi ise % 10 dur.' deyince bir öğrenci, 'Aynı yamaçta iki farklı eğim nasıl olur?' diye sordu. Bir başka öğrenci de, 'olur; çünkü,' dedi."

İkinci öğrenci boş bırakılan yerde ne söylemiş olursa birinci öğrencinin sorusunu doğru yanıtlanmış olur?

- A) Yamacın ortalama eğimi % 45'tir
- B) Yol yamaçta dönemeçlerle uzatılmıştır
- C) Eğim çeşitli yöntemlerle hesaplanabilir
- D) Yol eğimi % 10 dan fazla olamaz
- E) Taşıtlar, % 45 eğimli bir yamaca tırmanamaz

69.

Pamuk yetiştirilen Gediz Vadisi'nde zeytin de yetiştirilmektedir. **İğdır Ovası'nda pamuk yetiştirildiğine göre, burada zeytin yetiştirilip yetiştirilemeyeceği ve nedeni hakkında ne söylenebilir?**

- A) Yetiştirilemez; çünkü, İğdır yöresinin yazları yağışlıdır
- B) Yetiştirilir; çünkü, İğdır Ovası'nda pamuk yetişebilmektedir
- C) Yetiştirilemez; çünkü, zeytin deniz kıyısında yetişen bir bitkidir
- D) Yetiştirilir; çünkü her iki yöre de alüvyeldir
- E) Yetiştirilemez; çünkü, bu iki yörenin kış sıcaklıkları farklıdır

70.

"Bu yıl yağışların bol olması çiftçilerin yüzünü güldürdü."

sözü, daha çok buğday üreticisi için söylenmişse bu söz, buğday tarımıyla ilgili olarak aşağıdakilerden hangisine bir kanıttır?

- A) Ekim alanlarının genişliğine
- B) Kuru tarım yönteminin yaygınlığına
- C) Buğday tarımının masraflı olduğuna
- D) Çiftçilerin sadece buğday ürettiğine
- E) Ekimin daha çok sonbaharda yapıldığına

71.

İnsanların, 30° enlemleri arasında daha çok yüksek yerleri, dışındaysa alçak yerleri yerleşim alanı olarak seçmiş olmaları, aşağıdakilerden hangisini örneklendirir?

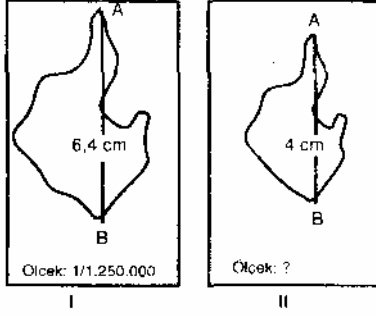
- A) Dünyadaki her yerin yerleşmeye elverişli olduğunu
- B) Uygarlık düzeyinin, yerleşim alanı seçimine etkisini
- C) Ulaşımın insan yaşamına etkisini
- D) İklimin insan yaşamına etkisini
- E) Gelir kaynaklarının insanların yaşamına etkisini

60. "Kasabayı bütünüyle görebilmek için bir araçla gökyüzünde yükselmek gerekir. Ancak, yükseldikçe görülebilen alan büyürken, cisimler küçülür, yapılar birbirinden ayırt edilemez duruma gelir."

Bu durum, aşağıdakilerden hangisini açıklamada iyi bir örnek olur?

- A) Haritaların kullanılmasını
- B) Haritaların işaretlenişini
- C) Ölçek farkının haritaya etkisini
- D) Haritaların yönüne konuluşunu
- E) Görüş açısının değişmeyişi

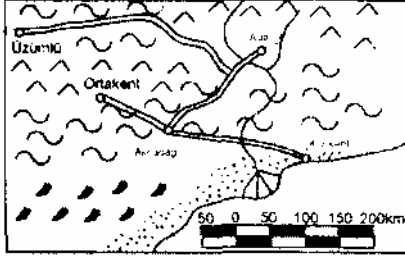
61.



Yukarıda verilen I. haritanın ölçeği 1/1 250 000; bu haritada A ve B noktaları arası 6,4 cm dir. II. haritada aynı A ve B noktaları arası 4 cm olduğuna göre, bu haritanın ölçeği nedir?

- A) 1/1 500 000
- B) 1/2 000 000
- C) 1/2 250 000
- D) 1/2 640 000
- E) 1/3 000 000

62.



Yukarıda verilen haritaya göre, Kıyıkent'le Adalı arası kuş uçuşu olarak yaklaşık kaç km dir?

- A) 200
- B) 300
- C) 400
- D) 500
- E) 600

63. Türkiye'de ormanların bölgelere göre dağılışı % olarak şöyledir:

Karadeniz Bölgesi.....	27
Akdeniz Bölgesi.....	21
Marmara Bölgesi	19
Ege Bölgesi	16
İç Anadolu Bölgesi.....	9
Doğu Anadolu Bölgesi.....	7
Güneydoğu Anadolu Bölgesi.....	1

Aşağıdaki yorumlardan hangisi, bu dağılışa göre yanlıştır?

- A) Ormanların yaklaşık % 50'si Akdeniz ve Karadeniz bölgelerinde yer alır
- B) Ormanların yaklaşık % 90'ı Artvin - İskenderun hattının batısında yer almaktadır
- C) Ormanlar, bölgelere genişlikleriyle orantılı olarak dağılmıştır
- D) Orman yönünden en zengin bölge Karadeniz bölgesidir
- E) Ormanların ülke yüzeyinde dağılımı düzensizdir

64. "Türkiye'de, tarım alanlarında kullanılan traktör sayısı ne denli artarsa artсын, tarım alanında hayvan gücüne duyulan gereksinim tümüyle ortadan kalkmayacaktır."

Bu görüşün doğruluğu, aşağıdakilerden hangisine bağlıdır?

- A) Traktör kullanımıyla ilgili bilgi eksikliğinin sürüp gitmesine
- B) Traktörden, toprak işleme dışındaki amaçlarla da yararlanılmasına
- C) Hayvan gübresine duyulan gereksinimin sürmesine
- D) Tarım alanlarından bir bölümünün traktörle işlenemeycek durumda olmasına
- E) Hayvancılığın, ülke ekonomisindeki önemini korumasına